

PERIFÉRICOS DE SALIDA DE DATOS

Los periféricos de salida sirven para obtener datos del ordenador. Los más usados son:

- El monitor o la pantalla

Existen dos tipos de monitores:

- Los monitores de tubo de rayos catódicos: Son los monitores que más espacio ocupan. Consumen más energía. Y dañan más la vista.
- Los monitores planos: Son los monitores que menos espacio ocupan. Consumen menos. Y dañan menos la vista. El inconveniente es que son más caros.
- La impresora



La impresora nos permite sacar en papel toda la información que tenemos en la pantalla del ordenador.

Existen distintos tipos de impresoras. La más utilizada es la impresora de chorro de tinta: imprime lanzando microgotas de tinta sobre el papel.

Otras impresoras son las impresoras láser que cada vez se usan más.



- Los altavoces

Con ellos podemos escuchar sonidos generados por el ordenador.

TIC. Partes del hardware

Fecha: _____

ACTIVIDAD 1:

Responde a las siguientes preguntas:

1. ¿Para qué sirven los periféricos de salida?

2. ¿Qué dos tipos de monitores existen?

3. ¿Qué podemos hacer con una impresora?

4. ¿Para qué se utilizan los altavoces?


ACTIVIDAD 2:

Escribe "V" si la frase es verdadera y "F" si es falsa:

La impresora saca en papel lo que tenemos en la pantalla.

El monitor es un periférico de entrada.

Los altavoces reproducen sonidos que produce el ordenador.




TIC. Partes del hardware

Fecha:

ACTIVIDAD 3:

Clasifica las siguientes características según al tipo de monitor al cual pertenezcan:

- Son más caros
- Consumen más energía
- Consumen menos energía
- Dañan más la vista
- Ocupan menos espacio
- Dañan menos la vista



Monitores planos	Monitor de tubo de rayos catódicos

ACTIVIDAD 4:

Completa la siguiente frase con las palabras del recuadro:

datos - periféricos - datos - ordenador - altavoces - impresora

Los _____ de salida sirven para obtener _____ del _____;
uno de ellos sería por ejemplo la _____ y otro los _____




TIC. Partes del hardware

Fecha:

ACTIVIDAD 5:

Asigna a cada uno de estos periféricos su nombre. Ayúdate con la tabla siguiente:

impresora - teclado - monitor - escáner - altavoces - ratón



Clasifícalos en periféricos de entrada y de salida:

PERIFÉRICOS DE ENTRADA	PERIFÉRICOS DE SALIDA